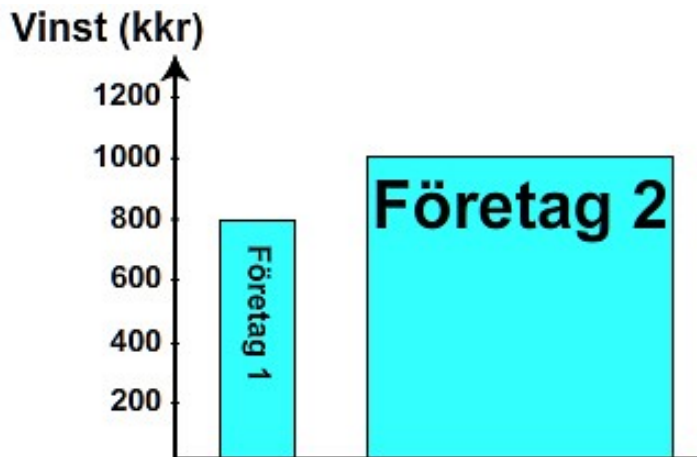


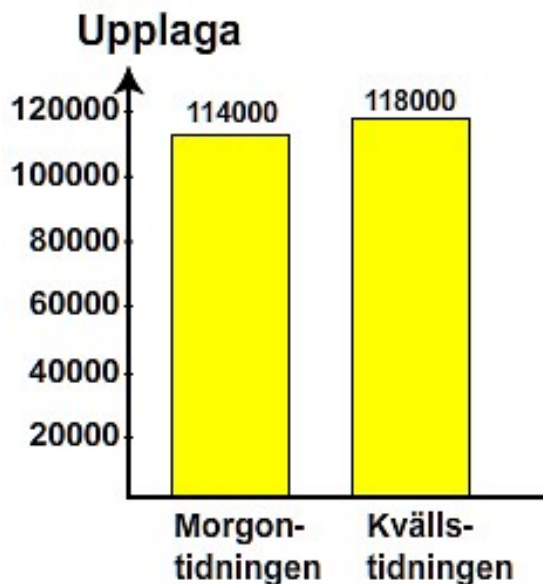
## Test 4 Att luras med statistik

1. Diagrammet nedan visar vinsten i tusen kr (kk) för två företag. Ge ett skäl till att man kan påstå att nedanstående diagram är vilseledande.

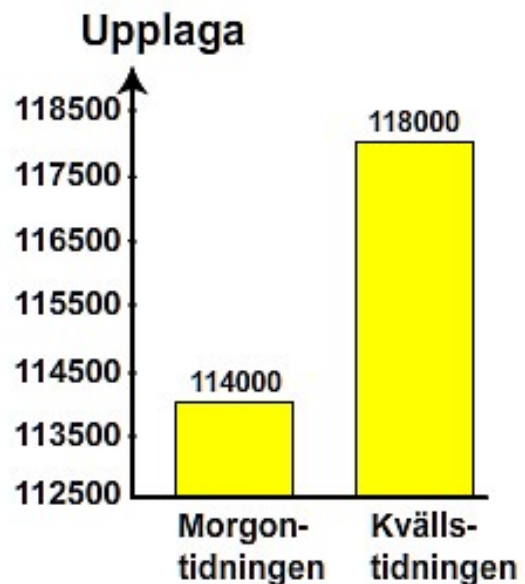


2. De två diagrammen nedan visar upplagan för två tidningar. Vilket av diagrammen ger en missvisande bild av upplagan? Motivera svaret.

a)



b)



3. Linjediagrammet visar börskursutvecklingen för ett företag. Ge ett förslag på hur man skulle kunna ge en överdrivet positiv bild av företagets kursutveckling?

**Börskurs i kkr**

